

ஆதித்யா TNPSC பயிற்சி மையம், காஞ்சிபுரம்,

செல் : 9786851468,

9952765173

பதிவு
எண்

--	--	--	--	--	--	--	--

பொதுத் தமிழும், பொது அறிவும் 2015 மாதிரி தேர்வு- 3


அனுமதிக்கப்பட்டுள்ள நேரம் : 3 மணி

[மொத்த மதிப்பெண்கள் : 300

வினாக்களுக்கு பதிலளிக்குமுன் கீழ்க்கண்ட அறிவுரைகளை கவனமாகப் படிக்கவும்

முக்கிய அறிவுரைகள்

- இந்த வினாத் தொகுப்பு ஒரு மேலுறையை (இந்த பக்கத்தை)க் கொண்டுள்ளது. தேர்வு தொடங்கும் நேரத்தில் வினாத்தொகுப்பைத் திறக்கும்படி கண்காணிப்பாளர் கூறும் வரையில் மேலுறையைத் திறக்கக் கூடாது. வினாத்தொகுப்பைத் திறக்கும்படியான செய்கை கண்காணிப்பாளரிடமிருந்து பெற்றவுடன் மேலுறையின் வலதுபுறத்தை கவனமாக கிழித்துத் திறக்க வேண்டும். அதன்பின் கேள்விகளுக்கு விடையளிக்கத் தொடங்கலாம்.
- இந்த வினாத் தொகுப்பு 200 வினாக்களைக் கொண்டுள்ளது. விடையளிக்க தொடங்குமுன் இவ்வினாத்தொகுப்பில் எல்லா வினாக்களும் இடம் பெற்றுள்ளனவா என்பதையும் இடையில் ஏதும் வெற்றுத்தாள்கள் உள்ளனவா என்பதையும் சரிபார்த்துக் கொள்ளவும்.
- எல்லா வினாக்களுக்கும் விடையளிக்கவும். எல்லா வினாக்களும் சமமான மதிப்பெண்கள் கொண்டவை.
- உங்களுடைய பதிவு எண்ணை இந்தப் பக்கத்தின் வலது மேல் மூலையில் அதற்கென அமைந்துள்ள இடத்தில் நீங்கள் எழுத வேண்டும். வேறு எதையும் வினாத் தொகுப்பில் எழுதக் கூடாது.
- விடைகளைக் குறித்துக் காட்ட என, விடைத்தாள் ஒன்று உங்களுக்கு கண்காணிப்பாளரால் தனியாகத் தரப்படும். விடைத்தாளின் இரண்டாம் பக்கத்தில் உங்களுடைய பதிவு எண், பெயர், வினாத்தொகுப்பு வரிசை எண் (Sl. No.) மற்றும் கேட்டுள்ள விபரங்களை நீலம் அல்லது கருமை நிற பந்துமுனைப் பேனாவினால் நீங்கள் எழுத வேண்டும். தவறினால் உங்களது விடைத்தாள் செல்லாததாகப்படும்.
- உங்களுடைய பதிவு எண், தேர்வுத்தாள் எண் மற்றும் வினாத்தொகுப்பு வரிசை எண் (Sl. No.) முதலியவற்றையும் விடைத்தாளின் இரண்டாம் பக்கத்தில் அவைகளுக்காக அமைந்துள்ள இடங்களில் நீலம் அல்லது கருமை நிற மையுடைய பந்துமுனைப் பேனாவினால் குறித்துக் காட்ட வேண்டும். மேற்கண்ட விபரங்களை விடைத்தாளில் நீங்கள் குறித்துக் காட்டத் தவறினால் உங்கள் விடைத்தாள் செல்லாததாகப்படும்.
- ஒவ்வொரு வினாவும் (A), (B), (C) மற்றும் (D) என நான்கு விடைகளைக் கொண்டுள்ளது. நீங்கள் அவைகளில் ஒரே ஒரு சரியான விடையைத் தேர்வு செய்து விடைத்தாளில் குறித்துக் காட்ட வேண்டும். ஒன்றுக்கு மேற்பட்ட சரியான விடைகள் ஒரு கேள்விக்கு இருப்பதாகக் கருதினால் நீங்கள் மிகச் சரியானது என்று எதைக் கருதுகிறீர்களோ அந்த விடையை விடைத்தாளில் குறித்துக் காட்ட வேண்டும். எப்படியாயினும் ஒரு கேள்விக்கு ஒரே ஒரு விடையைத்தான் தேர்ந்தெடுக்க வேண்டும். உங்களுடைய மொத்த மதிப்பெண்கள் நீங்கள் விடைத்தாளில் குறித்துக் காட்டும் சரியான விடைகளின் எண்ணிக்கையைப் பொறுத்தது.
- விடைத்தாளில் ஒவ்வொரு கேள்வி எண்ணிற்கும் எதிரில் [A], [B], [C] மற்றும் [D] என நான்கு விடைக்கட்டங்கள் உள்ளன. ஒரு கேள்விக்கு விடையளிக்க நீங்கள் சரியென கருதும் விடையை ஒரே ஒரு விடைக்கட்டத்தில் மட்டும் பந்து முனைப் பேனாவினால் குறித்துக் காட்ட வேண்டும். ஒவ்வொரு கேள்விக்கும் ஒரு விடையைத் தேர்ந்தெடுத்து விடைத்தாளில் குறிக்க வேண்டும். ஒரு கேள்விக்கு ஒன்றுக்கு மேற்பட்ட விடையளித்தால் அந்த விடை தவறானதாக கருதப்படும். உதாரணமாக நீங்கள் [B] என்பதை சரியான விடையாகக் கருதினால் அதை பின்வருமாறு குறித்துக் காட்ட வேண்டும்.
[A] ■ [C] [D]
- நீங்கள் வினாத் தொகுப்பின் எந்தப் பக்கத்தையும் நீக்கவோ அல்லது கிழிக்கவோ கூடாது. தேர்வு நேரத்தில் இந்த வினாத் தொகுப்பினையோ அல்லது விடைத்தாளையோ தேர்வுக் கூடத்தை விட்டு வெளியில் எடுத்துச் செல்லக்கூடாது. தேர்வு முடிந்தபின் நீங்கள் உங்களுடைய விடைத்தாளைக் கண்காணிப்பாளரிடம் கொடுத்து விட வேண்டும். இவ்வினாத் தொகுப்பினைத் தேர்வு முடிந்தவுடன் நீங்கள் உங்களுடன் எடுத்துச் செல்லலாம்.
- குறிப்புகள் எழுதிப் பார்ப்பதற்கு வினாத் தொகுப்பின் கடைசி பக்கத்திற்கு முன்பக்கத்தை உபயோகித்துக் கொள்ளலாம்.
- மேற்கண்ட விதிகளில் எதையாவது மீறினால் தேர்வாணையம் முடிவெடுக்கும் நடவடிக்கைகளுக்கு உள்ளாக நேரிடும் என அறிவுறுத்தப்படுகிறது.
- 101 முதல் 200 வரையிலான வினாக்களில் ஆங்கில வடிவில் கொடுக்கப்பட்டுள்ள குறிப்புகள்தான் முடிவானதாகும்.
- வினாத் தொகுப்பில் விடையை குறியிடவோ, குறிப்பிட்டுக் காட்டவோ கூடாது.



AADHITHYA TNPSC COACHING CENTRE, KANCHEEPURAM

RANI ANNA DURAI HR. SEC. SCHOOL, 9786851468,

Gr.-IV

மாதிரி தேர்வு - 3

Date: 10.06.2016

1. பின்வருவனற்றுள் தவறானது எது ?
 - A) அகநானூற்றைத் தொகுத்தவர் - உருத்திர சம்மன்
 - B) அகநானூற்றுக்கு வழங்கும் வேறுபெயர் - நெடுந்தொகை
 - C) அகநானூற்றுறைத் தொகுப்பித்தவர் - பாண்டியன் உக்கிர பெருவழுதி
 - D) அகநானூறு - புறம் சார்ந்த நூல்
2. எரிந்திலங்கு சடைமுடி முனிவர் புரிந்து கண்ட பொருள் மொழித் தன்று - இவ்வடிகள் இடம் பெறுவது
 - A) முதுமொழி மாலை
 - B) புறப்பொருள் வெண்பாமாலை
 - C) புறநானூறு
 - D) குறுந்தொகை
3. பின்வரும் திருக்குறள் பற்றிய கூற்றுகளில் தவறானது எது ?
 - A) வள்ளுவரும் தம் குறள் பாவடியால் வையத்தார் - பரணர்
 - B) உள்ளுதோ றுள்ளுதோ றுள்ளம் உருக்குமே - மாங்குடி மருதனார்
 - C) பொய்ப்பால பொய்யேயாய்ப் போயினபொய் - தேனிக்குடி கீரனார்
 - D) புத்தகம் நூல் புரட்டிக் களைப்புற்று - இராமலிங்கனார்
4. கொத்துப் பறை கொட்டக் களமிசை குக்குக்கு குக்குக்கு கு கு குத்திப்புதை புக்குப் பிடியென முது கூகை - இவ்வடிகள் இடம் பெற்ற நூல்
 - A) தேவாரம்
 - B) திருப்புகழ்
 - C) திருவாசகம்
 - D) சகலகலா வல்லி
5. பின்வருவனவற்றுள் சரியானது எது ?
 - i) வாய்மொழிக் கபிலன் - நக்கீரர்
 - ii) நல்லிசைக் கபிலன் - பெருங்குன்றூர்க் கிழார்
 - iii) வெறுத்த கேள்வி விளங்கு புகழ் கபிலன்- இளங்கீரனார்
 - iv) பொய்யா நாவிற் கபிலன் - மாறோக்கத்து நப்பச்சலையார்
 - A) (i) மட்டும் சரி
 - B) (ii) மற்றும் (iii) சரி
 - C) (iii) மற்றும் (iv) சரி
 - D) அனைத்தும் சரி

6. மேக சந்தேகம் என்ற நூலின் ஆசிரியர்
 A) குமரகுருபரர் B) கண்ணதாசன்
 C) வாணிதாசன் D) காளிதாசன்
7. 'ஓறுத்தாரை ஒன்றாக வையாரே வைப்பர்
 பொறுத்தாரைப் பொன்போல் பொதிந்து' - இதில் அடிக்கோடிட்ட சொல்லோடு பொருந்துவது
 A) PUNISH B) HELP
 C) FRIEND D) ENEMY
8. 'நீதித் திருக்குறளை நெஞ்சாரத் தம் வாழ்வில் ஒதித்தொழுது எழுது ஓர்ந்து' என்று கூறியவர்
 A) பரணர் B) கவிமணி
 C) மாங்குடி மருதனார் D) தேனிக்குடி கீரனார்
9. 'சிந்தித்தேன் சிந்தித்தேன் உலக மக்கள் சிந்தையிலே ஒளியில்லை' என்று பாடல் இடம் பெற்றிருக்கும் கவிதைத் தொகுப்பு
 A) தமிழ்க்கவிதை களஞ்சியம் B) நல்ல உலகம் நாளை மலரும்
 C) இது எங்கள் கிழக்கு D) சுட்டுவிரல்
10. பொருந்தாத இணையைக் கண்டறிக
 A) கதுப்பு - கூந்தல் B) ஒருவன் - யமன்
 C) வல்சி - மழை D) தூவி - இறகு
11. தவறானவற்றைத் தேர்க
 A) வாசவன் - பிரமன் B) போதன் - பிரமன்
 C) அணங்கு - திருமகள் D) ஐராவதம் - இந்திரனது யானை
12. பொருத்துக
- | | | A | B | C | D |
|----------------------------|-------------------------|------|---|---|---|
| A) வேதியர் ஒழுக்கம் | - 1.அப்துல் ரகுமான் | a) 3 | 1 | 4 | 2 |
| B) சொந்த சிறைகள் | - 2.தாராபாரதி | b) 3 | 4 | 2 | 1 |
| C) விரல் நுனி வெளிச்சங்கள் | - 3.கால்டுவெல் | c) 4 | 3 | 2 | 1 |
| D) இன்னொரு சிகரம் | - 4.ஆலந்தூர் மோகனரங்கன் | d) 4 | 2 | 1 | 3 |
13. தன்னொற்றிரட்டல் என்ற விதிப்படி பொருந்தாதது
 A) சிற்றோடை B) வெவ்விருப்பு
 C) வெற்றிலை D) பச்சூன்

14. பின்வருவனவற்றுள் பொருந்தாதது எது ?

www.TrbTnpsc.com

- A) கயன்முள் - ஆறாம், வேற்றுமைத் தொகை
 B) ஈர்வளை - வினைத்தொகை
 C) பொலம்புனை - மூன்றாம் வேற்றுமைத் தொகை
 D) கூர்ப்படை - வினைத்தொகை

15. பின்வரும் அகநானூற்றுப் பாடலில் எண் வரும் முறைகளில் தவறானது ?

- A) பாலைத்திணைப் பாடல்கள் - 1, 3, 5, 7,
 B) குறிஞ்சித்திணைப் பாடல்கள் - 2, 8, 18, 28,
 C) மருதத்திணைப் பாடல்கள் - 6, 16, 26, 36,
 D) முல்லைத்திணைப் பாடல்கள் - 10, 20, 30, 40,

16. நல்லது செய்த லாற்றீ ராயினும்

அல்லது செய்த லோம்புமினதுதான்- இப் புறநானூற்றுப் பாடலின் திணை

- A) வெட்சி B) கரந்தை
 C) பொதுவியல் D) பாடாண்

17. பின்வரும் பொருளில் தவறானது எது ?

- A) ஓதி - கூந்தல் B) மன் - தயரதன்
 C) மருகி - மருமகள் D) தனயை - மகன்

18. காவி விழிகளில் உன் உருவெளி மின்னக் கனிவாய் தனிலே உன்திரு
 நாமமே பன்னப் - இவ்வரி இடம்பெற்ற நூல்

- A) இராமநாடகத் கீர்த்தனை B) நந்தனார் கீர்த்தனை
 C) நல்லத்தங்காள் நாடகம் D) எதுவுமில்லை

19. தேம்பாவணி நூலில் இடம் பெறாத கதை மாந்தர் யார் ?

- A) சவுல்மன்னன் B) கோலியாத்து
 C) தாவீதன் D) இரசூல்

20. 'எனையீன்ற தந்தைக்கும் தாய்க்கும் மக்கள்

இனமீன்ற தமிழ்நாடு தனக்கும் என்னால்

தினையளவு நலமேனும் கிடைக்குமென்றால்

செத்தொழியும் நாள் எனக்குத் திருநாளாகும்' - என்றவர்

- A) பாரதியார் B) பாரதிதாசன்
 C) நாமக்கலார் D) கண்ணதாசன்

<http://www.trbtpsc.com/2013/09/tnpsc-group-2-group-4-vao-exam-study.html>

BSj V0 TNPSC T« tE ÛUVm, Lôg £×Wm. 9786851468, 9952765173

21. 'சேரி மொழியாற் செவவிதிற கிளந்து
தேர்தல் வேண்டாது குறித்தது தோன்றிற்
புலனென மொழிப் புலனுணர்ந் தோரே' என்று தொல்காப்பியர் குறிப்பிடுவது
A) பள்ளு B) குறவஞ்சி
C) பரணி D) பிள்ளைத்தமிழ்
22. 'சீரோடும் சிறப்போடும் வாழ்வ தற்குச்
சிக்கனமே துணைபுரியும்' என்று கூறியவர்
A) இராசகோபலான் B) மோகனரங்கன்
C) தாராபாரதி D) அப்துல் ரகுமான்
23. பொருத்துக A B C D
A) புத்தக சாலை - 1. சுரதா a) 3 4 1 5
B) தீக்குச்சிகள் - 2. தாலபாரதி b) 3 4 5 1
C) சிக்கனம் - 3. பாரதிதாசன் c) 2 3 4 5
D) காடு - 4. அப்துல் ரகுமான் d) 4 3 2 1
- 5. வாணிதாசன்
24. பூப்பெயர் முன் இன மென்மையுந் தோன்றம் விதிப்படி பொருந்தாதது?
A) பூங்கொடி B) பூஞ்சோலை
C) புத்தகப்பை D) பூக்காரி
25. பொருத்துக A B C D
A) சந்திராதித்தம் - 1. பொற்குடை a) 3 1 4 2
B) சகலாபாசனம் - 2. பூர்வாகமம் b) 3 4 2 1
C) நித்தவினோதம்- 3. முத்துக்குடை c) 4 3 2 1
D) பூர்வம் - 4. மணிக்குடை d) 2 4 1 3
26. பொருத்துக A B C D
A) மணிமேகலை - 1. சமணம் a) 2 3 4 5
B) நீலகேசி - 2. கிறித்துவம் b) 4 1 2 3
C) இரட்சணிய யாத்திரிகம்- 3. இசுலாம் c) 4 2 1 5
D) சீறாப்புராணம் - 4. பௌத்தம் d) 3 2 4 5
5. வைணவம்

27. பின்வரும் மரபுச் சொற்களில் தவறானது எது? www.Padasalai.Net www.TrbTnpsc.com

- A) இளஞ்சேங்காய் - வழக்கை
 B) வாழைப் பிஞ்சு - வாழைக் கச்சல்
 C) முருங்கைப் பிஞ்சு - முருங்கைச் சரடு
 D) அவரைக் பிஞ்சு - அவரைக் காய்

28. பொருத்துக (வடமொழியினைத் தமிழ்ப்படுத்துக) A B C D

- A) கட்கநேத்ரி - 1. பழமலைநாதர் a) 3 2 4 1
 B) வீணாமதுரபாஷிணி- 2. வாள் நெடுங்கண்ணி b) 2 4 3 1
 C) விருத்தகிரீச்சுரர்- 3. குடமூக்கு c) 2 4 1 3
 D) கும்பகோணம் - 4. யாழினும் நன்மொழியாள் d) 4 3 2 1

29. பின்வரும் கலைச் சொற்களுக்குரிய தமிழாக்க இணையில் தவறானது எது?

- A) ஒப்புச்சீட்டு - புரோநோட் B) கடவுச்சீட்டு - பாஸ்போர்ட்
 C) குறும்பெட்டி - பிரீப்கேஸ் D) காசோலை - ரசீது

30. பின்வரும் இசைக் கருவிகளின் பெயர்களில் பொருந்தாது எது?

- A) வீரகண்டி B) வான்கா
 C) சேமக்கலம் D) வாகைகுடி

31. பொருத்துக

- | சிறுகதை | ஆசிரியர் | A | B | C | D |
|------------|-----------------------|------|---|---|---|
| A) சட்டை | - 1. ராஜம்கிருஷ்ணன் | a) 2 | 4 | 3 | 1 |
| B) வேலி | - 2. ஜெயகாந்தன் | b) 2 | 1 | 4 | 3 |
| C) மகன் | - 3. நாஞ்சில் நாடன் | c) 3 | 4 | 2 | 1 |
| D) கிழிசல் | - 4. பா.செயப்பிரகாசம் | d) 4 | 3 | 2 | 1 |

32. கொடைமடம் படுத லல்லது

படைமடம் படான்பிறர் படைமயக் குறினே - இவ்வரிகளை பரணார் யாருக்காகப் பாடினார்?

- A) பாரி B) பேகன்
 C) காரி D) அதியமான்

33. அகநானூறு முப்பிரிவுகளில் குறைந்த பாடல்கள் கொண்டது

- A) களிற்றுயானை நிரை B) மணிமிடைப் பவளம்
 C) நித்திலக்கோவை D) எதுவுமில்லை

34. எரிமருள் வேங்கை யிருந்த தோகை www.Padasalai.Net www.TrbTnpsc.com
இழையணி மடந்தையிற் றோன்று நாட! - கோட்ட சொல்லின் இலக்கணக் குறிப்பு
A) வினையெச்சம் B) பெயரெச்சம்
C) வினைத்தொகை D) பண்புத்தொகை
35. பொருத்துக A B C D E
A) மருதம் - 1. ஓதலாந்தையார் a) 3 4 5 1 2
B) நெய்தல் - 2. பேயனார் b) 3 4 6 2 1
C) குறவஞ்சி - 3. ஓரம் போகியார் c) 4 3 2 5 1
D) பாலை - 4. அம்மூவனார் d) 2 3 5 6 4
E) முல்லை - 5. கபிலர்
6. நக்கீரர்
36. யாழ் போட்டியில் வென்று சீவகன் மணந்தது
A) கேமசரி B) விமலை
C) தத்தை D) இலக்கணை
37. 'கொல்லேற்றுக் கோட்டுக் வாணை மறுமையும் புல்லாளே ஆயமகள்' -இவ்வரி இடம்பெறும் நூல்
A) அகநானூறு B) புறநானூறு
C) பரிபாடல் D) கலித்தொகை
38. பின்வரும் கூற்றுகளில் தவறானது எது?
A) சீறாப்புராணம் மூன்று காண்டங்களை உடையது
B) சீறாப்புராணம் 5027 பாடல்கள் கொண்டது
C) பனு அகமது மரைக்காயர் பாடியது சின்னச் சீறா
D) சீறாப்புராணம் எழுதி முடிக்கப்பட்டவுடன் சீதகாதி மறைந்தார்.
39. பின்வருவனவற்றுள் தவறானது எது?
A) மனோன்மணியம் நாடகத் தமிழ் நூலாகும்
B) மனோன்மணியம் ஐந்து அங்கங்களையும் இருபது காட்சிகளையும் கொண்டது
C) மனோன்மணிய நூலில் வரும் துணைக்கதை சிவகாமி சரிதம்
D) பெ.சுந்தரம்பிள்ளை "வாழ்விலே செம்மையை செய்பவள் நீயே" என்ற பாடலைப் பாடியுள்ளார்

40. பாரதியாருடைய வசன் கவிதைகள் யாருடைய கவிதைகளோடு ஒப்பிடத்தக்கவை?

- A) சேக்ஷ்பியர்
B) பெர்ட்டண்ட் ரசல்
C) கலில் கிப்ரான்
D) தாந்தே

41. வேதநாயக சாஸ்திரியர் இயற்றிய நூல்களில் பொருந்தாதது எது?

- A) ஞானத்தச்சன்
B) ஞானவுலா
C) ஆரணாதிந்தம்
D) கித்தேரியம்மன் அம்மாணை

42. 1966 ல் தமிழக அரசு பரிசுப் பெற்ற நூல்

- A) பூங்கொடி
B) காவியப்பாவை
C) வீரகாவியம்
D) பூக்கட்டும் புதுமை

43. 'காலமாங் கிழவனை ஞாலமோ கடவுளோ

கடுஞ்சிறை வைத்த தில்லை' - இவ்வரிகளைக் கூறியவர்

- A) கண்ணதாசன்
B) முடியரசன்
C) வாணிதாசன்
D) பெரியார்தாசன்

44. மண்மேல் முதன் முதலில்

மனிதன் நடைபோடப்
பாதை சொல்லித்தந்த

பால தீபங்கள் -என்று நா. காமரசர் குறிப்பிடுவது

- A) கால்கள்
B) மனம்
C) கண்கள்
D) மூக்கு

45. H.A. கிருஷ்ணப்பிள்ளை படைப்புகளில் கல் மனதையும் கரையச் செய்யும் பக்திப்பாடல்களில் தொகுப்பு

- A) இரட்சணியக் குறள்
B) இரட்சணிய மனோகரம்
C) இரட்சணிய யாத்திரிகம்
D) போற்றித் திருவகவல்

46. ஐந்திலக்கணம் கூறும் நூல்

- A) வீரசோழியம்
B) தொன்னூல் விளக்கம்
C) நன்னூல்
D) தொல்காப்பியம்

47. 'மெல்ல வந்தென் நல்லடி பொருந்தி

ஈயென இரங்குவ ராயின்' -இக் கூற்றுக்கு உரியவர்

- A) நெடுங்கிள்ளி
B) நலங்கிள்ளி
C) அதியமான்
D) பேகன்

48. வெண்ணிப் பறந்தலை என்னும் போர்க்களத்தில் சோழன் கரிகாலனோடு போர்புரிந்தவன்

- A) நெடுஞ்செழியன் B) பராந்தகன்
C) பெருஞ்சேரலாதன் D) இராசேந்திரன்

49. பொருத்துக A B C D

- A) புரோனோட் - 1. வாழ்த்தொப்பம் a) 3 4 1 2
B) விசா - 2. குறும்பெட்டி b) 4 1 3 2
C) ஆட்டோகிராப் - 3. ஒப்புச்சீட்டு c) 2 3 4 1
D) பிரீட்ப்கேல் - 4. நுழைவு இசைவு d) 4 3 2 1

50. சரியானதைத் தொடரைத் தேர்க

- A) மிளகு தொண்டைக் கட்டைத் தொலைக்கும்
B) மிளகுத் தொண்டைக் கட்டை தொகைக்கும்
C) மிளகுத் தொண்டை கட்டைத் தொலைக்கும்
D) மிளகு தொண்டைக் கட்டை தொலைக்கும்

51 இலக்கண குறிப்பு அறிக

கெடுப்பதூஉம்
எடுப்பதூஉம்
அதனினுஉங்கு

- A) இன்னிசையளபெடை B) சொல்லிசையளபெடை
C) செய்யுளிசையளபெடை D) வினையாலணையும் பெயர்

52 உவமையால் விளக்கப்பெறும் பொருத்தமான பொருளை தேர்ந்தெடு
'கண்ணைக் கட்டி காட்டில் விட்டது போல்'

- A) பயம் B) வருத்தம்
C) அறியாமை D) உணர்ச்சி வசப்படுதல்

53 முப்பது கோடியும் வாழ்வோம் - வீழில்
முப்பது கோடி முழுமையும் வீழ்வோம் -

இதில் வரும் இயைபு சொற்களை தேர்ந்தெடு

- A) கோடியும், கோடி B) வாழ்வோம், வீழ்வோம்
C) முப்பது, முழுமை D) வீழில், முழுமை

- 54 எல்லாரும் எல்லாமும் பெற வேண்டும் –இங்கு இல்லாமை இல்லாத நிலைவேண்டும் – என்று பாடியவர்
- A) கண்ணதாசன் B) வாலி
C) பட்டுக்கோட்டையார் D) மருதகாசி

55. பொருத்தமான பொருளை தேர்வு செய்து பொருத்துக
- | | |
|------------|----------------------|
| சொல் | சொல்லுக்குரிய பொருள் |
| A) ஏரம்பன் | - 1. அறிவிலி |
| B) ஏல் | - 2. விநாயகர் |
| C) ஏழை | - 3. காலம் |
| D) ஏல்வை | - 4. எதிர்கொள் |

- | | | | | |
|----|---|---|---|---|
| | a | b | c | d |
| A) | 2 | 4 | 1 | 3 |
| B) | 2 | 1 | 4 | 3 |
| C) | 3 | 4 | 2 | 1 |
| D) | 4 | 3 | 1 | 2 |

- 56 அகரவரிசைப் படி சொற்களை சீர்செய்க
- A) தாழ்ப்பாள், தொழில், திண்ணை, தங்கம்
B) தங்கம், தாழ்ப்பாள், திண்ணை, தொழில்
C) திண்ணை தொழில், தங்கம், தாழ்ப்பாள்
D) தொழில், திண்ணை, தாழ்ப்பாள், தங்கம்

- 57 இதழியல் கலைச்சொல்லில் பொருந்திய இணையைத் தேர்க
- | | |
|----------------|-------------------------------|
| சொல் | சொல்லுக்குரிய பொருள் |
| A) Green proof | - 1. செய்தித் தாள் அமைப்பு |
| B) Lay out | - 2. குறித்த காலம் |
| C) Editorial | - 3. தலையங்கம் |
| D) Deadline | - 4. திருத்தப்படாத அச்சுப்படி |

- 58 கி.பி. 18 ம் நூற்றாண்டின் தொடக்கத்தில் தஞ்சையில் ஓவியங்களை வரைந்தவர்கள்
- A) பல்லவர்கள் B) சோழர்கள்
C) பாண்டியர்கள் D) மராட்டியர்கள்

59 “உண்பது நாழி - உடுப்பவை இரண்டே” - இடம்பெறும் நூல்?

- A) நற்றிணை B) குறுந்தொகை
C) புறநானூறு D) அகநானூறு

60 பொருத்தமான பொருளை தேர்வு செய்து பொருத்துக

- | | சிற்றிலக்கியம் | நூற்பா |
|----|----------------|----------------------------------------------------|
| A) | உலா | - 1. குழவி மருங்கினும் கிழவதாகும் |
| B) | பரணி | - 2. ஊரோடு தோற்றமும் உரித்தென மொழிப |
| C) | பிள்ளைத்தமிழ் | - 3. காமம் மிக்க கழிபடர் களிவ |
| D) | தூது | - 4. ஆனை ஆயிரம் அமரிடைவென்ற
மானவனுக்கு வகுப்பது |

	a	b	c	d
A)	2	3	4	1
B)	2	1	4	3
C)	3	4	2	1
D)	2	4	1	3

61 சிலப்பதிகாரத்தின் வேறு பெயர்களில் சரியானது

- i) முத்தமிழ் காப்பியம் ii) குடிமக்கள் காப்பியம்
iii) தமிழர்களின் தேசியக் காப்பியம் iv) சமுதாயக் காப்பியம்
சரியானது

- A) 1 மற்றும் 2 சரி B) 3 மற்றும் 4 சரி
C) 1,2,3 சரி D) அனைத்தும் சரி

62 பிரித்து எழுதுக : அறவோர்க்களித்தல்

- A) அற +வோர் + களித்தல் B) அறம் + ஓர் + அளித்தல்
C) அறவோர்க்கு + அளித்தல் D) அறஓர்க் + அளித்தல்

63. சரியான விடையைத் தேர்க

- | A | B |
|------------|----------------|
| a) கூகை | - கோட்டான் |
| b) திரு | - நீங்காமை |
| c) தீராமை | - செல்வம் |
| d) ஒல்கார் | - விலகமாட்டார் |
- A) a மட்டும் சரி B) b, c மட்டும் சரி
C) a, b, c மட்டும் சரி D) a, d மட்டும் சரி

64. சரியான விடையைத் தேர்ச்சு

சொல்	பொருள்		
A) விரை	- 1. உடல்	A)	a, b சரி
B) கழல்	- 2. பெருகி	B)	a, b, c தவறு
C) ததும்பி	- 3. மணம்	C)	அனைத்தும் சரி
D) மெய்	- 3. அணிகலன்	D)	அனைத்தும் தவறு

65. a) உலக வரலாற்றிலேயே மேதையான மாணிக்கவாசகரைவிடப் புலமை உழைப்பு, துன்பத்தைப் பொறுத்தல், இடையறா நிலையான பக்தி, ஆகியவற்றுடன் நம் மனதைக் கவர்கின்றவர் யாரும் இல்லை

b) இப்படிச் கூறியவர் - ஜி.யு.போப்

A) a மட்டும் சரி	B) a, b இரண்டும் சரி
C) b மட்டும் சரி	D) a, b இரண்டும் தவறு

66. உலகத்தோடு ஒட்ட ஒழுகல் பலகற்றும் கல்லார் அறிவிலாதார் திருவள்ளுவர் கூறும் அறிவிலாதவர்

- A) தொழிற் கல்வி கல்லாதவர்
 B) ஆன்மீகக் கல்வி கல்லாதவர்
 C) கணித அறிவு இல்லாதவர்
 D) உயர்ந்தாரோடு பொருந்த வாழும் கல்வியைக் கல்லாதவர்

67. கொக்கொக்க கூம்பும் பருவத்து மற்றதன் குத்தொக்க சீர்த்த இடத்து இக்குறளில் கூம்பும் என்னும் சொல்லின் பொருள்

- A) உரிய காலம்
 B) வாய்ப்பற்ற காலம்
 C) காத்திறாமை
 D) சிறந்த வாய்ப்புள்ள காலம்

68. மருந்துப் பொருள்களின் பெயரில் அமைந்த நூல்கள்

- A) திருக்குறள், நன்னூல்
 B) திரிகடுகம், ஏலாதி
 C) நற்றிணை, திரிகடுகம்
 D) ஏலாதி, திருக்குறள்

69. “வணங்கி வழியொழுகி மாண்டார் சொல் கொண்டு” இத்தொடரில் “மாண்டார்” என்னும் சொல்லின் பொருள்

- A) பணிந்தவர்
 B) சான்றோர்
 C) இறந்தவர்
 D) இறந்தவர்

70. “ஏலாதி” கூறும் கருத்துகள்

- A) 3 B) 4
C) 5 D) 6

www.TrbTnpsc.com

71. பொருத்துக

- | | | | A | B | C | D |
|---------------|---|-----------------|------|---|---|---|
| A) Aesthetic | - | 1. இயற்கைவனப்பு | a) 1 | 4 | 2 | 3 |
| B) Instinet | - | 2. சிற்றுணா | b) 3 | 4 | 2 | 1 |
| C) Snacks | - | 3. பாசறை | c) 1 | 4 | 3 | 2 |
| D) Green Room | - | 4. இயற்கை அறிவு | d) 4 | 3 | 1 | 2 |

72. ஐ காரம் பெறும் மாத்திரை அளவு

- | | | | A | B | C | D |
|---------------------|---|----------------|------|---|---|---|
| A) சொல்லின் முதலில் | - | 1. 2 மாத்திரை | a) 4 | 3 | 2 | 1 |
| B) சொல்லின் இடையில் | - | 2. 1 மாத்திரை | b) 3 | 2 | 1 | 4 |
| C) சொல்லின் கடையில் | - | 3. 1 மாத்திரை | c) 2 | 1 | 3 | 4 |
| D) தனித்து ஒலித்தல் | - | 4. 1½ மாத்திரை | d) 1 | 3 | 4 | 2 |

73. அடிமோனையைக் கண்டறிக

சமுதாயம் திருந்திடவும் வேண்டும்
சமுதாயம் மலர்ந்திடவும் வேண்டும்

- A) சமுதாயம் - மலர்த்திட - B) சமுதாயம் - திருந்தி -
C) சமுதாயம் - சமுதாயம் D) சமுதாயம் - வேண்டும்

74. “கற்றாரை யான்வேண்டேன்

கற்பனைவும் இனிமையும்”

இதில் அமைந்துள்ள மோனை

- A) இணை மோனை B) மேற்கதுவாய் மோனை
C) கூழை மோனை D) பொழிப்பு மோனை

75. உவமையால் விளக்கப்பெறும் பொருள் அறிதல்

“அடுத்தது காட்டும் பளிங்கு போல”

- A) மறைவு B) வாழ்வு
C) தெளிவு D) தாழ்வு

76. உவமையால் விளக்கப்பெறும் பொருள் அறிதல்
“வல் உகிர்ப் புலி எலாம் ஒரு வழிப் புகுந்த போலவே”
- A) படைகள் விட்டு விலகுதல்
B) படைகளெல்லாம் ஓர் இடத்தில் திரளுதல்
C) படைகளெல்லாம் சேர்ந்து வருதல்
D) படைகள் போர் மேற்கொள்ளல்
77. விடைக்கு ஏற்ற வினாவைத் தேர்க
“நல்லோரால் இவ்உலகம் இயங்குகிறது”
- A) யாரால் இந்த உலகம் இயங்குகிறது
B) எப்படி இந்த உலகம் இயங்குகிறது
C) ஏன் இந்த உலகம் இயங்குகிறது
D) எதற்காக இந்த உலகம் இயங்குகிறது
78. விடைக்கேற்ற வினாவை தேர்வு செய்க
“ஆலும் வேலும் பல்லுக்குறுதி”
- A) எது பல்லுக்குறுதி? B) பல்லுக்கு உறுதி எது?
C) ஆலம் வேலும் பல்லுக்குறுதியா? D) எவை பல்லுக்குறுதி?
79. பொருந்தாத குறிப்பைக் காண்க
- A) பகைகொளல் - இரண்டாம் வேற்றுமைத் தொகை
B) பொய்யா விளக்கம் - ஈறுகெட்ட எதிர்மறைப் பெயரெச்சம்
C) இருளறுக்கும் - அல் ஈற்று வியங்கோள் வினைமுற்று
D) அறன் - கடைப்போலி
80. பொருத்துக
- | | | | A | B | C | D | |
|------------------|----|------------------------|----|---|---|---|---|
| A) செய்தாரை | - | 1. வினையெச்சம் | a) | 3 | 2 | 4 | 1 |
| B) உண்ணாது | - | 2. தொழிற்பெயர் | b) | 3 | 1 | 2 | 4 |
| C) கண்ணோட்டம்- | 3. | வினையால் அணையும் பெயர் | c) | 2 | 3 | 1 | 4 |
| D) அடவி மலையாறு- | 4. | உம்மைத் தொகை | d) | 3 | 2 | 1 | 4 |

81. பொருந்தா இணையைத் தேர்க

www.Padasalai.Net

www.TrbTnpsc.com

- A) சொல்லாகு பெயர் - பாட்டுக்கு உரை எழுதுக
 B) காரியவாகுபெயர் - களவியல் படித்தான்
 C) தானியாகுபெயர் - கழல் பணித்தான்
 D) கருவியாகுபெயர் - காளை வந்தான்

82. காலம் காட்டும் பெயர்ச் சொல்லைத் தேர்க

- A) தொழிற்பெயர் B) பண்புப்பெயர்
 C) வினையால் அணையும் பெயர் D) பொருட்பெயர்

83. பொருத்துக

A B C D

- A) ங எ - 1. 40 a) 1 3 4 2
 B) ச 0 - 2. 37 b) 3 4 2 1
 C) உ சா - 3. 18 c) 2 1 4 3
 D) க அ - 4. 26 d) 2 1 3 4

84. நூலகத் தந்தை எனப் போற்றப்படுபவர்

- A) உ.வே.சாமிநாதர் B) சீ.இரா.அரங்கநாதன்
 C) காமராசர் D) அறிஞர் அண்ணா

85. சரியான விடையைத் தேர்க 'தற்குறிப்பேற்றவணி'

- A) தற்குறிப்பு + ஏற்றவணி B) தன் + குறிப்பு ஏற்றவணி
 C) தன் + குறிப்பு + ஏற்றம் + அணி D) தன்குறிப்பு + ஏற்றவணி

86. பொருத்துக

A B C D

- A) உயிர் எழுத்துகள் - 1. மூக்கு a) 3 1 2 4
 B) வல்லின எழுத்துகள் - 2. மார்பு b) 1 2 4 3
 C) மெல்லின எழுத்துகள் - 3. கழுத்து c) 3 1 2 4
 D) ஆய்த எழுத்து - 4. தலை d) 3 2 1 4

87. பொருத்துக

A B C D

- A) ஒற்றளபெடை - 1. குடிதழீஇ a) 2 4 1 3
 B) இன்னிசை அளபெடை - 2. அரங்கம் b) 1 4 3 2
 C) சொல்லிசை அளபெடை - 3. உழாஅர் c) 3 2 1 4
 D) செய்யுளிசையளபெடை - 4. உடுப்பதூஉம் d) 2 1 4 3

<http://www.trbtpsc.com/2013/09/tnpsc-group-2-group-4-vao-exam-study.html>

BSj V0 TNPSC T« tE ÛUVm, Lôg £xWm. 9786851468, 9952765173

88. இவற்றில் எது தொழிற் பெயர் இல்லை

- A) நோன்பு
B) உரைத்தல்
C) பாடினனை
D) படிப்பு

89. பொருத்துக

- | | | | | A | B | C | D |
|-------------|---|----|----------|----|---|---|-----|
| A) எம்பி | - | 1. | பாஞ்சலி | a) | 3 | 2 | 1 4 |
| B) மடப்பிடி | - | 2. | என்தம்பி | b) | 1 | 3 | 4 2 |
| C) களிக்க | - | 3. | மன்னன் | c) | 2 | 1 | 4 3 |
| D) கோமான் | - | 4. | மகிழ | d) | 3 | 1 | 4 2 |

90. “பொருந்த டங்கட் பிறைநுதலார்க் கெலாம்

பொருந்து செல்வமுங் கல்வியும் பூத்தலால்

வருந்தி வந்தவார்க் கீதலும் வைகலும்

விருந்து மன்றி விளைவன யாவையே” என்று கூறியவர்?

- A) கம்பர்
B) ஒட்டக் கூத்தர்
C) ஓளவையார்
D) கபிலர்

91. சரியான விடையைத் தேர்க

- | | | | | A | B | C | D |
|--------|---|----|---------|----|---|---|-----|
| A) வழி | - | 1. | வலிமை | a) | 4 | 1 | 3 2 |
| B) வலி | - | 2. | விலங்கு | b) | 3 | 1 | 2 4 |
| C) தளை | - | 3. | காற்று | c) | 2 | 3 | 1 4 |
| D) வளி | - | 4. | பாதை | d) | 4 | 1 | 2 3 |

92. தவறானதைத் தேர்க

- A) நான்மணிக்கடிகை - விளம்பிநாகனார்
B) சிறுபஞ்ச மூலம் - காரியாசான்
C) பேயாழ்வார் - முதல் திருவந்தாதி
D) சரஸ்வதி அந்தாதி - கம்பர்

93. “கை துடித்தது” எவ்வகை வாக்கியம்?

- A) தன்வினை
B) பிறவினை
C) செய்வினை
D) செயப்பாட்டுவினை

94. பொருத்துக
- | | A | B | C | D | |
|------------------------------------|----------------------|------|---|---|---|
| A) கவிமணி தேசிக
விநாயகம் பிள்ளை | - 1. பெற்றமனம் | a) 3 | 2 | 1 | 4 |
| B) மு. மேத்தா | - 2. பசுவும் கன்றும் | b) 4 | 2 | 1 | 3 |
| C) முவரதராசனார் | - 3. கண்ணீர் பூக்கள் | c) 2 | 3 | 4 | 1 |
| D) நா.பார்த்தசாரதி | - 4. பொன் விலங்கு | d) 2 | 3 | 1 | 4 |

95. 'முந்தை இருந்து நட்டோர் கொடுப்பின்
நஞ்சும் உண்பர் நனி நாகரிகர்' இத்தொடர் இடம் பெற்றுள்ள நூல்
- | | |
|--------------|--------------|
| A) அகநானூறு | B) புறநானூறு |
| C) கலித்தொகை | D) நற்றிணை |

96. பொருத்துக
- | | A | B | C | D | |
|-----------|--------------|------|---|---|---|
| A) வழக்கு | - 1. நட்பு | a) 3 | 1 | 2 | 4 |
| B) நண்பு | - 2. பழுது | b) 3 | 1 | 4 | 2 |
| C) கடை | - 3. நன்னெறி | c) 4 | 1 | 3 | 2 |
| D) நிடம் | - 4. உறுதி | d) 3 | 2 | 4 | 1 |

97. தவறானதைத் தேர்க
- | |
|------------------------------------------------|
| A) அவரைப் பிஞ்சு, பன்றி உறுமும், கட்டுரை எழுது |
| B) கழுதைக் குட்டி, வானம்பாடி பாடும், களைபறி |
| C) குதிரைக்கன்று, ஆந்தை அலரும், பழம் உண் |
| D) படம்வரை, புலிப்பறழ், பலாமூசு |

98. பொருத்துக சரியான விடையைத் தேர்க
- | | A | B | C | D | |
|-------------------------|-------------|------|---|---|---|
| A) தமிழ் இலக்கண வகைகள் | - 1. இரண்டு | a) 2 | 3 | 4 | 1 |
| B) யாப்பின் உறுப்புகள் | - 2. ஐந்து | b) 3 | 2 | 1 | 4 |
| C) பா வகைகள் | - 3. ஆறு | c) 2 | 4 | 1 | 3 |
| D) முதலெழுத்தின் வகைகள் | - 4. நான்கு | d) 1 | 2 | 3 | 4 |

99. வாக்கிய வகை காண்க www.Padasalai.Net

www.TrbTnpsc.com

“திரவியம் தமிழரால் தேடப்பட்டது”

- A) தன்வினை
B) பிறவினை
C) செய்வினை
D) செயப்பாட்டுவினை

100. பொருத்துக திசைக்கொற்கள்

		A	B	C	D
A) குல்லா	- 1. ஜப்பானி	a) 2	1	3	4
B) ரிக்ஷா	- 2. பார்சி	b) 3	1	2	4
C) அலமாரி	- 3. போர்ச்சுகீசியம்	c) 1	2	3	4
D) பீரோ	- 4. பிரெஞ்சு	d) 4	3	2	1

101. பொருத்துக

- A) தேசிய கீதம் - 1. 26. Nov.1949
B) தேசிய கொடி - 2. 22.03.1957
C) தேசிய நாள் காட்டி - 3. 22.07.1947
D) இந்திய அரசியலமைப்பு - 4. 24.01.1950

	a	b	c	d
A)	3	4	2	1
B)	4	3	2	1
C)	3	4	1	2
D)	4	3	1	2

102 சரியானதை காண்க

- A) துணை குடியரசுத் தலைவர் பதவிக்கு குறைந்தபட்ச வயது 45 வயது
B) துணை குடியரசுத் தலைவர் நாடாளுமன்றத்தின் உறுப்பினர் இல்லை - அவருக்கு வாக்கும் இல்லை
A) குடியரசுத் தலைவர் வருமான வரி கட்டத் தேவையில்லை
B) அமைச்சர்களின் ஊதியத்தை நிர்ணயம் செய்வது - கேபினேட் குழு
A) 1 மட்டும் சரி
B) 4 மட்டும் சரி
C) 3 மட்டும் சரி
D) 2 மட்டும் சரி

103 பொருந்திய இணையை தேர்க

வகையுரை(provision)	பகுதி (part)
A) யூனியன் பிரதேசங்கள்	- 1. பகுதி V111
B) அரசியலமைப்பில் திருத்தம்	- 2. பகுதி XX1
C) மாநில அரசாங்கம்	- 3. பகுதி XV
D) தேர்தல்கள்	- 4. பகுதி V

104 கீழ்க்கண்ட கூற்றுகளில் சரியானவை எவை

கூற்று (A) : செல்கள் மூன்று முறைகளில் பகுப்படைகின்றன

காரணம் (R) : இந்த மூன்று முறைகளிலும் சைட்டோபிளாசம் பகுப்படைவதற்கு முன்னர் உட்கரு பகுப்படையும்

- A) (A) தவறு ஆனால் (R) சரி
- B) (A) மற்றும் (R) இரண்டும் சரி ஆனால் (R) என்பது (A) விற்கு சரியான விளக்கமல்ல
- C) A மற்றும் (R) இரண்டும் சரி மேலும் (R) என்பது (A) விற்கு சரியான விளக்கம்
- D) (A) சரி ஆனால் (R) தவறு

105 பொருத்துக

பட்டியல் I	பட்டியல் II
A) ஆஸ்திரேலிய அரசியலமைப்பு	- 1. நெருக்கடி நிலை முறை
B) ஜப்பான் அரசியலமைப்பு	- 2. பொதுப் பட்டியல்
C) அமேரிக்கா அரசியலமைப்பு	- 3. உச்ச நீதிமன்ற செயல்பாடு
D) ஜெர்மன் அரசியலமைப்பு	- 4. எழுதப்பட்ட அரசியலமைப்பு

	a	b	c	d
A)	2	3	4	1
B)	2	1	4	3
C)	3	4	2	1
D)	4	3	1	2

106 தவறான இணையை தோந்தெடு

www.TrbTnpsc.com

- A) விதி 36 முதல் விதி 51 - அடிப்படை உரிமைகள்
 B) விதி 36 முதல் விதி 51 - அரசு நெறிமுறை கோட்பாடு
 C) விதி 12 முதல் விதி 35 - அடிப்படை கடமைகள்
 D) விதி 5 முதல் விதி 11 - அடிப்படை குடியரிமை
- A) 1, 2 மட்டும் சரி B) 3 மற்றும் 4 சரி
 C) 1, 4 மட்டும் சரி D) 2 மற்றும் 4 சரி

107 மாநில அரசுப் பணி தேர்வாணைய உறுப்பினர்களின் பதவிக்காலம்

- A) 5 ஆண்டுகள் B) 6 ஆண்டுகள்
 C) 3 ஆண்டுகள் D) 4 ஆண்டுகள்

108 பின்வரும் மாநிலங்களை வரிசைப்படுத்து

- A) தெலுங்கானா B) ஜார்க்கண்ட்
 C) சட்டீஸ்கர் D) உத்ராஞ்சல்

சரியானது

- A) 1,2,3,4 B) 4,2,3,1
 C) 3,2,4,1 D) 2,3,4,1

109 கீழ்க்கண்ட கூற்றை ஆராய்க

- A) அனைத்து உயிரிகளும் செல்கள் எனப்படும் மிக நுண்ணிய அலகுகளால் ஆனவை
 B) தனித்து வாழக்கூடிய மிகச் சிறிய அமைப்பு செல் ஆகும்
 C) சில புரோட்டோசோவான்கள் செல் அமைப்பைக் கொண்டிருக்கவில்லை
 சரியானது
 A) 1, 2 மற்றும் 3 சரி B) 1 மற்றும் 2 சரி 3 தவறு
 C) 1 தவறு 2 மற்றும் 3 சரி D) அனைத்தும் சரி

110 பின்வரும் நிகழ்வுகளில் கானிங் பிரபு காலத்தில் நடைபெறாதது?

- A) ராணுவ பணியாளர் சட்டம்
 B) சிப்பாய் கலகம்
 C) இந்திய குற்றவியல் சட்டம்
 D) சென்னை, மும்பை, கல்கத்தா பல்கலைக்கழகத்தை அடிக்கல் நாட்டியவர்

<http://www.trbtpsc.com/2013/09/tnpsc-group-2-group-4-vao-exam-study.html>

BSj V0 TNPSC T« tE ÒUVm, L0g £×Wm. 9786851468, 9952765173

- 111 www.Padasalai.Net ஒத்துழையாமை போராட்ட தீர்மானம் நிறைவேற்றப்பட்டபோது INC தலைவராக இருந்தவர் www.TrbTnpsc.com
- A) அரவிந்த கோஷ் B) விஜயராகவ ஆச்சாரி
C) அன்னிபெசன்ட் D) M.M.மாளவியா
- 112 காந்தியை மகாத்மா என அழைத்தவர்கள்
- A) திலகர் மற்றும் தாகூர் B) தாகூர் மற்றும் ராஜாஜி
C) நேதாஜி மற்றும் M.N.ராய் D) தாகூர் மற்றும் முகமது அலிஜின்னா
- 113 பின்வரும் கூற்றுகளை கவனி
- கூற்று 1 : சிந்து சமவெளி நாகரிகத்தில் பசுபதி (சிவன்) வழிபாடு காணப்பட்டது
காரணம் 2 : சிந்து சமவெளி மக்கள் பெண் கடவுளை வணங்கினர்
- A) கூற்று காரணம் சரி
B) காரணம் தவறு கூற்று சரி ஆனால்
C) கூற்று தவறானது ஆனால் காரணம் சரியானது
D) இரண்டும் தவறு
- 114 பின்வரும் நிகழ்வுகளை காலவரிசைப்படுத்து
- i) மத்திய சட்டமன்றத்தின் மீது குண்டு வீசிய வழக்கு - பகத்சிங் மற்றும் தத்தா
ii) சாண்டர்ஸ் என்ற அதிகாரியை பகத்சிங் சுட்டு கொல்லுதல் - 1928
iii) வாஞ்சிநாதன் ஆஷ் துரையை சுட்டுகொல்லுதல் - 1911
iv) இந்திய விடுதலை படையை ஜப்பானில் ராஷ் பிகாரி போஷ் தொடக்கம் - 1942
சரியானது
- A) 1, 2, 3, 4. B) 1, 2, 3, 4.
C) 3, 2, 1, 4. D) 1, 2, 3, 4
- 115 பின்வரும் கூற்றுகளை கவனி
- கூற்று 1 : காந்தி தொடங்கிய முதல் உண்ணாவிரத போராட்டம் அகமதாபாத் மில் போராட்டம்
கூற்று 2 : காந்தி தொடங்கிய முதல் அறப் போராட்டம் சாம்ரான் சத்தியாகிரகம் இவற்றுள் சரியானது
- A) 1 மற்றும் 2 சரி B) இரண்டும் தவறு
C) 1 சரி 2 தவறு D) 1 தவறு 2 சரி
- 116 பின்வருவனவற்றுள் இந்தியாவிலிருந்து வெளிவராத செய்தித்தாள்
- A) காதர் B) பிரதாப்
C) இந்தியன் சோஷியலிஸ் D) ஸ்டேட்மேன

117 பின்வருவனவற்றுள் தவறான இணையை தேர்வு செய் www.Padasalai.Net www.TrbTnpsc.com

- A) ICS இம்பீரியல் சிவில் சர்வீஸ் - காரன்வாலிஸ் பிரபு
 B) சென்னை ராஜாதானி - பெண்டிங் பிரபு
 C) வடிகட்டும் கொள்கை - எல்பின்டஸ் பிரபு
 D) பொது நிர்வாக முறை - ஹேஸ்டிங் பிரபு

118 கீழ்க்கண்ட கூற்றுகளை ஆராய்க

- A) செல் விழுங்குதல் டினோசைட்டோசிஸ் எனப்படும்
 B) செல் அருந்துதல் :.போகோசைட்டோசிஸ் எனப்படும்
 சரியானது

- A) 1, மட்டும் சரி B) 2 மட்டும் சரி
 C) 1 2 சரி D) 1 மற்றும் 2 தவறு

119 பொருத்துக

- A) வந்தவாசி வீரர் - 1. கம்பராய நாயக்கர்
 B) ஆற்காடு வீரர் - 2. சர்அயர் கூட்
 C) மைசூரை நிறுவியவர் - 3. கிருஷ்ண ராஜ உடையார்
 D) Modern State Mysore - 4. ராபர்ட் கிளைவ்

	a	b	c	d
A)	2	3	4	1
B)	2	4	1	3
C)	3	4	2	1
D)	4	3	1	2

120 பின்வரும் கூற்றுகளை கவனி

- i) சிப்பாய் கலகம் தொடங்கிய இடம் - கோரக்பூர்
 ii) கிழக்கிந்திய கம்பெனியின் - Nick name John கம்பெனி
 iii) சிப்பாய் கலகத்தின் போது சாம்பல் பூரில் புரட்சி படைக்கு தலைமை ஏற்றவர் - லியாகத் அலி
 iv) சிப்பாய் கலகத்தின் போது ஐதராபாத் - சாலர் ஐங் பிரிட்ஷ்ஷாருக்கு உதவினார்
 இவற்றுள் தவறானது

- A) 1, 3 மட்டும் B) 1, 2 மட்டும்
 C) எதுமில்லை D) 3 மட்டும்

121 கிராம ஆட்சிக்கு சோழர்களின் முன்னோடி என அழைக்கப்பட்டவர்கள்

- A) பல்லவர்கள் B) பாண்டியர்கள்
C) சாளுக்கியர்கள் D) சேரர்கள்

122 பொருந்தாததைக் கண்டறிதல்

ராமநாதபுர கூட்டமைப்பை தொடங்கியவர்?

- A) கட்டபொம்மன் B) மருது பாண்டியர்கள்
C) புலித்தேவர் D) கோபால் நாயக்கர்

123 பொருத்துக

- A) தென்னிந்தியாவின் முதுபெரும் மனிதர் - 1. T. பிரகாசம்
B) பனகல் அரசர் - 2. V.O.C. ஐயர்
C) தென்னாட்டின் திலகர் - 3. ராமராய நிங்கர்
D) ஆந்திர கேசரி - 4. வா.ஊ.சி

	a	b	c	d
A)	2	3	4	1
B)	2	4	1	3
C)	3	4	2	1
D)	4	3	1	2

124 பின்வரும் கூற்றுகளை கவனி

- A) சோழர் கால ஓவியம் காணப்படுவது - தஞ்சை, திருமயம்
B) தமிழின் சாகுந்தலம் - நளவெண்பா
A) சோழ கால கட்டிட கலையின் சிறப்பு - விமான அமைப்பு
B) சீனாவிற்கு தூது குழுவை அனுப்பியவர் - I ராஜராஜ சோழன்
- A) 1, 2 சரி B) 1, 4 சரி
C) 3, 4 சரி D) 1, 2, 3 சரி

125 பொருத்துக

- | | | |
|---------------|------|--------------------------|
| A) கிராமிகா | - 1. | ஊதியத்திற்கு பதில் நிலம் |
| B) சம்அர்தா | - 2. | மாகாண ஆளுநர் |
| C) உபரிகர்கள் | - 3. | கிராம தலைவர் |
| D) இக்தா | - 4. | வருவாய் துறை அதிகாரி |

	a	b	c	d
A)	3	4	2	1
B)	2	4	1	3
C)	3	4	1	2
D)	4	3	1	2

126. சிகரங்களின் உயரங்களின் அடிப்படையில் வரிசைப்படுத்துக

- | | | |
|---------------|----------------|-----------|
| 1. நங்கபர்வத் | 2. கஞ்சன்ஜங்கா | |
| 3. நந்ததேவி | 4. தவளகிரி | 5. காமெட் |

	a	b	c	d	e
a)	1	2	3	4	5
b)	2	4	1	3	5
c)	2	1	4	5	3
d)	4	3	2	1	5

127 டெல்லி சுல்தான்களில் இரும்பும் ரத்தமும் கொள்கையை பின்பற்றியவர்?

- | | |
|---------------------|------------------------|
| A) இல்டுமிஷ் | B) பால்பன் |
| A) அலாவுதீன் கில்ஜி | B) முகமது பின் துக்ளக் |

128 அக்பர் நாமா அயினி - இ - அக்பரி நூலை எழுதியவர்

- | | |
|---------------|---------------|
| A) பதௌனி | B) காபிக்கான் |
| C) அபுல்பாசல் | D) இணையத்கான் |

129 பின்வரும் கூற்றுகளை கவனி

www.TrbTnpsc.com

- A) கூற்று 1 : தக்காணத்தில் சிவாஜி மராட்டிய பேரரசை அமைத்தார்
- B) கூற்று 2 : ஓளரங்கசீப் வடமேற்கு பகுதியில் ராஜபுத்திரர்களுடன் போர் செய்ததால் சிவாஜியை அவர் அடக்க காலம் தேவைப்பட்டது
- A) கூற்று சரி, காரணம் தவறு
- B) கூற்று சரி, கூற்றிற்கு, காரணம் சரியான விளக்கம்
- C) காரணம் சரி, கூற்று தவறானது,
- D) இரண்டும் தவறு

130 குடியரசுத் தலைவர் ஆட்சி அதிக முறை நடைபெற்ற மாநிலங்களை வரிசைப்படுத்து

- A) பஞ்சாப் B) கேரளா
- A) தமிழ்நாடு B) ஆந்திரா
- A) i,ii,iii,iv B) ii,iii,i,iv
- C) iii,i,iv,ii D) i,iv,iii,ii,

131. (Laterite soil) லேட்ரைட் மண் உருவாக உகந்த நிலை

- A) அதிக வெப்பம் மற்றும் அதிக மழையளவு
- B) குறைந்த வெப்பம் & குறைந்த மழையளவு
- C) மிதவெப்பம் மற்றும் குறைந்த மழையளவு
- D) குறைந்த மழையளவு மற்றும் அதிகவெப்பம்

132 பொருத்துக

- A) மோலின் அரை இலைச் சோதனை - 1. ஓளிச்சேர்க்கையின் போது O₂ வெளியிடப்படுவதைக் காண
- B) மணி ஜாடி சோதனை - 2. ஓளி தேவை என்பதைக் காண
- C) ஹைடிரில்லா தாவர இலைச் சோதனை - 3. CO₂ என்பதைக் காண
- D) கோனங்கின் ஒளித்திரை சோதனை - 4. நீராவிப் போக்கினைக் காண

	a	b	c	d
A)	2	3	4	1
B)	2	1	4	3
C)	3	4	1	2
D)	4	3	2	1

<http://www.trbtpsc.com/2013/09/tnpsc-group-2-group-4-vao-exam-study.html>

BSj Vò TNPSCT « tE ÒUVm, Lòg £×Wm. 9786851468, 9952765173

133 கீழ்க்கண்டவற்றில் எது சிஞ்ஜெஷியஸ் என்று அழைக்கப்படுகிறது? www.Padasalai.Net www.TrbTnpsc.com

- A) பூவரசம் பூ B) சங்குப் பூ
C) இலவம் பூ D) சூரியகாந்திப்பூ

134 கீழ்க்காணும் வாக்கியத்தில் எது சரி

- A) DNA வில் 5C டிஆக்ஸிரைபோஸ் சர்க்கரை உள்ளது
B) RNA ன் ரைபோசோம்களின் மொத்த எடையில் 40-60 விழுக்காடு உள்ளது
C) RNA ல் r-RNA நியூக்கிளியஸில் உருவாகிறது
D) DNA மூலக்கூறின் விட்டம் 10A⁰ ஆகும்
A) 1,2 மட்டும் சரி B) 1,2,3 மட்டும் சரி
C) 3,4 மட்டும் சரி D) அனைத்தும் சரி

135 கீழ்க்கண்ட கூற்றுகளில் தவறானது எது?

- A) இரு வித்திலை தாவர விதையில் காணப்படும் குட்டையான, செங்குத்தான வெண்மையான பகுதிக்கு ரஃபே என்று பெயர்
B) இரு வித்திலை தாவர விதைகளில் காணப்படும் நுண்ணிய துளைக்கு “மைக்ரோபைல்” என்று பெயர்
C) கருவில் தண்டு உருவாகும் பகுதிக்கு “முளைவேர்” என்று பெயர்
D) கருவில் வேர் உருவாகும் பகுதிக்கு “முளைவேர்” என்று பெயர்

136 கீழ்க்கண்ட கூற்றுகளில் சரியானவை எவை

கூற்று (A) : லேக்டோபேசில்லஸ் என்ற பாக்டீரியா பாலை தயிராக மாற்றுகிறது

காரணம்(R) : இவை துண்டாதல் முறையில் வேகமாக இனப்பெருக்கம் அடைகின்றன

- A) (A) மற்றும் (R) இரண்டும் சரி மேலும் (R) என்பது (A) விற்கு சரியான விளக்கம்
B) (A) சரி ஆனால் (R) தவறு
C) (A) மற்றும் (R) இரண்டும் சரி ஆனால் (R) என்பது (A) விற்கு சரியான விளக்கமல்ல
D) (A) தவறு ஆனால் (R) சரி

137 கீழ்க்கண்டவற்றில் எது பறவைகளின் “சொர்க்க மலர்” என்றழைக்கப்படுகிறது?

- A) மியூஸா பாரடிஸியாகா
B) ஸ்டெரிலிட்சியா ரெஜினா
C) ராவனெலா மடகாஸ் கரியன்சிஸ்
D) ஹெலிகோனியா சிற்றினம்

<http://www.trbtpsc.com/2013/09/tnpsc-group-2-group-4-vao-exam-study.html>

138 கீழ்க்கண்ட கூற்றுகளை ஆராய்ந்து சரியான விடையை தோவு செய்க www.Padasalai.Net www.TrbTnpsc.com

- A) செல்கள் → திசுக்கள் → திசுத்தொகுப்புகள் → உறுப்புகள்
உறுப்பு மண்டலங்கள் → உயிரினங்கள்
- B) செல்கள் → திசுத்தொகுப்புகள் → திசுக்கள் → உறுப்புகள்
உறுப்பு மண்டலங்கள் → உயிரினங்கள்
- C) திசுக்கள் → செல்கள் → திசுத்தொகுப்புகள் → உறுப்புகள்
உறுப்பு மண்டலங்கள் → உயிரினங்கள்
- D) உறுப்புகள் → உறுப்பு மண்டலங்கள் → உயிரினங்கள் → திசுக்கள்
திசுத்தொகுப்புகள் → செல்கள்
- A) 1,2 மட்டும் சரி B) 2,3,4 மட்டும் சரி
- C) 1 மட்டும் சரி D) 3,4 சரி

139 ஆக்ஸிஜனேற்ற வினையில் நடைபெறுவது

- A) புரோட்டான் இழப்பு B) புரோட்டான் ஏற்கப்படுவது
- C) எலக்ட்ரான் இழப்பு D) எலக்ட்ரான் ஏற்கப்படுவது

140 பொருத்துக

பட்டியல்

பட்டியல் II

- A) புகைத்திரை - 1. சில்வர்
- B) லூனார் காஸ்டிக் - 2. யுரேனியம்
- C) கார்னடைட் - 3. AgNo3
- D) சயனைடு முறை - 4. PH3

a b c d

- A) 2 3 4 1
- B) 2 1 4 3
- C) 3 4 2 1
- D) 4 3 1 2

141 நீரின் மும்மைப் புள்ளி (triple point)

- A) 273.16°C B) 273.16°K
- C) 273.16°K D) 373.16°K

<http://www.trbtpsc.com/2013/09/tnpsc-group-2-group-4-vao-exam-study.html>

142 கீழ்க்காணும் வேதிச் சோமங்களை நோக்குக

www.TrbTnpsc.com

- i) அலுமினியம் பாஸ்பேட்
- ii) எண்டோசல்பான்
- iii) மாலதியான்
- iv) மீத்தைல் புரோமைட்

கொடுக்கப்பட்டுள்ளவற்றில் எது பூச்சிக்கொல்லியாக பயன்படுகிறது?

- A) 1, 2, 3 மற்றும் 4
- B) 2, 3 மற்றும் 4
- C) 1, 2 மற்றும் 3
- D) 1 மற்றும் 4

143 ஈனு (breeder) அணு கரு உலையில் பயன்படும் எரிப்பொருள் எது

- A) தோரியம்
- B) புரூட்டோனியம்
- C) டியூட்ரியம்
- D) யுரேனியம் - 235

144 கொடுக்கப்பட்டுள்ள மின்கற்றில் A மற்றும் B முனைகளுக்கு இடையே தொகுபயன் மின்தடை



- A) 1 ஓம்
- B) 2 ஓம்
- C) 3 ஓம்
- D) 4 ஓம்

145 ${}_{92}\text{U}^{236} \longrightarrow {}_{87}\text{U}^{224}$ இக்கதிரியக்கச் சிதைவு வினையில் எத்தனை ஆல்பா மற்றும் பீட்டா துகள்கள் உமிழப்பட்டுள்ளது?

- A) 3 ஆல்பா 3 பீட்டா
- B) 3 ஆல்பா 5 பீட்டா
- C) 7 ஆல்பா 3 பீட்டா
- D) 3 ஆல்பா 1 பீட்டா

146 சுழற்சி எலக்ட்ரான் கடத்தலின் போது உற்பத்தியாவது எது?

- A) NADPH_2 மட்டும்
- B) ATP மட்டும்
- C) NADH_2 மட்டும்
- D) ATP மற்றும் NADPH_2

147. மிஷன் இந்திரதனுஸ் என்ற திட்டம்

www.TrbTnpsc.com

- A) குழந்தைகளுக்கு தொற்று நோய் பரவாமல் தடுக்கும் திட்டம்
- B) வெள்ள மீட்பு பணிக்கான செயல்திட்டம்
- C) கருப்பு பணத்தை தடுப்பதற்கான திட்டம்
- D) பொதுத்துறை வங்கிகளை சீரமைப்பதற்கான திட்டம்

148. பொருத்துக

A B C D

- | | | | | | | | | |
|----------------|---|----|--------------------------|----|---|---|---|---|
| A) மொனாகோ | - | 1. | 1069 பேர் ஒருசதுர கி.மீ | a) | 2 | 4 | 3 | 1 |
| B) வங்கதேசம் | - | 2. | 2.9 பேர் ஒருசதுர கி.மீ | b) | 2 | 3 | 4 | 1 |
| C) ஆஸ்திரேலியா | - | 3. | 107 பேர் ஒருசதுர கி.மீ | c) | 4 | 1 | 2 | 3 |
| D) மங்கோலியா | - | 4. | 16779 பேர் ஒருசதுர கி.மீ | d) | 3 | 1 | 2 | 4 |

149. (NABARD) நாபார்ட் வங்கியின் தற்போதைய தலைவர்

- A) அனிதாகபூர்
- B) விஜய்சர்மா
- C) ஹர்ஷ்குமார் பன்வாலா
- D) அரவிந்த் ரஞ்சன்

150. கூற்று (A) : கருப்பு பணம் நாட்டு வருமானத்தை குறைத்து மதிப்பிட

வழிவகை செய்கிறது

காரணம் (R): சட்டத்திற்கு புறம்பான வகையில் ஈட்டப்பட்ட வருவாய்

என்பதால் கணக்கில் காட்டப்படுதில்லை

- A) (A) மற்றும்(R) இரண்டும் சரி மேலும்(R)என்பது(A)விற்கு சரியான விளக்கம்
- B) (A) மற்றும்(R) இரண்டும் சரி மேலும்(R)என்பது(A)விற்கு சரியான விளக்கமன்று
- C) (A) சரி ஆனால்(R) தவறு
- D) (A) தவறு ஆனால்(R) சரி

151. பொருத்துக www.Padasalai.Net

www.TrbTnpsc.com

I ஆண்டு

II மக்கள் தொகை வளர்ச்சி நிலை

- | | | |
|----------------|---|--------------------------------------|
| A) 1981 - 1921 | - | 1. குறைவதற்கான அறிகுறிகள் கொண்ட நிலை |
| B) 1921 - 1951 | - | 2. விரைவான உயர் வளர்ச்சி நிலை |
| C) 1951 - 1981 | - | 3. மக்கள் தொகையின் தேக்க நிலை |
| D) 1981 - 2011 | - | 4. சீரான வளர்ச்சி நிலை |

	A	B	C	D
a)	3	4	2	1
b)	4	2	1	3
c)	2	1	3	4
d)	1	3	4	2

152. பந்தன் வங்கியின் தலைமையகம்

- | | |
|----------------|--------------------|
| A) மகாராஷ்டிரா | B) மேற்கு வங்காளம் |
| C) சென்னை | D) குஜராத் |

153. கொடுக்கப்பட்டுள்ளவற்றுள் எது தவறான இணை

- | | | |
|-------------------------------|---|-------------|
| A) சென்னையின் பழைய பெயர் | - | மதராஷ் |
| B) சென்னையின் மக்கள் தொகை | - | 96,81,087 |
| C) சென்னையின் பரப்பளவு | - | 150 ச.கி.மீ |
| D) சென்னையின் மக்கள் அடர்த்தி | - | 555 ச.கி.மீ |

154. $7 + 2 = 9$, $5 + 3 = 8$, $9 + 1 = 10$, $2 + 1 = 3$, எனில் $5 + 4 = ?$

- | | |
|-------|-------|
| A) 19 | B) 9 |
| C) 28 | D) 14 |

155. அரசு அலுவலகங்கள் மற்றும் இதர அலுவலங்களின் பயன்பாட்டுக்காக மத்திய அரசு அறிமுகப்படுத்தியுள்ள புதிய கணினி இயங்கு தளம் பெயர்

- | | |
|--------------|-----------|
| A) BOSS | B) BSNTOS |
| C) KOYAPULSE | D) VKALFF |

156. 2015 செப்டம்பரில் முதல் பகவத் கீதை மாநாட்டை நடத்திய நாடு

- | | |
|----------------|---------------------|
| A) இந்தியா | B) சீனா |
| C) இங்கிலாந்து | D) தென் ஆப்பிரிக்கா |

157. மத்திய அரசு எந்த திட்டத்திற்காக நவம்பர் மாதம் 2015 ம் செஸ்வரி 0.5% உயர்த்தப்பட்டது.
- A) ஜன்தன் யோஜனா
B) நமாமி கங்கா
C) மேக் இன் இண்டியா
D) ஸ்வாச் பாரத்
158. உலக அளவிலான குத்துச்சண்டை போட்டி 2015 தரவரிசையில் இரண்டாம் இடம் பெற்ற இந்திய வீரர்
- A) ஷிவாதாபா
B) சுனில் நரைன்
C) தேதேவந்திரசிங்
D) பங்கஜ் அத்வானி
159. மத்திய அரசினால் கொண்டுவரப்பட்ட ஹிருதய திட்டம் எதற்கானது ?
- A) சிறிய நகராட்சிகளையும், பேரூராட்சிகளையும் தரமானதாக மாற்றுதல்
B) கங்கையை தூய்மை படுத்துதல்
C) இந்தியாவின் முக்கிய நகரங்களை திறன்மிகு நகரங்களாக மாற்றுதல்
D) பாரம்பரிய மிக்க நகரங்களை பாதுகாத்தல்
160. இந்தியாவில் முதன் முறையாக தெரு விளக்கு பயன்பாட்டிற்கென தனி வரி விதித்த மாநிலம்
- A) குஜராத்
B) மேகலயோ
C) அசாம்
D) ஆந்திரபிரதேசம்
161. தமிழகத்தில் சிறந்த மாநகராட்சி என விருது பெற்ற மாநகராட்சி
- A) சென்னை
B) திருநெல்வேலி
C) மதுரை
D) திருச்சி
162. விளக்கு விருது எனப்படும் இலக்கியத்திற்கான விருதை 2014 ம் ஆண்டில் பெற்றவர் ?
- A) மாதொரு பாகன்
B) சி.மோகன்
C) பி.ராதாகிருஷ்ணன்
D) சங்கரன் குரு
163. இந்தியாவில் முதன் முறையாக ஸ்மார்ட் வாட்ச்களில் இயங்கும் வகையிலான வங்கி சேவையை அறிமுகப்படுத்திய வங்கி
- A) ICICI
B) SBI
C) HDFC
D) Indian Bank

164. இணையச் சமநிலை (Net Neutrality) சேவை குறித்த பொதுவான கொள்கையை வகுக்க அரசினால் நியமிக்கப்பட்ட கமிட்டி
- A) பார்க்வா கமிட்டி
B) சிவராமக் கமிட்டி
C) ரங்கராஜன் கமிட்டி
D) பகவதி கமிட்டி
165. சர்வதேச அளவில் வறுமை கோட்டின் அளவாக (நாளொன்றுக்கு) உலக வங்கி குறிப்பிடும் டாலர் மதிப்பு ?
- A) 1.25 டாலர்
B) 1.90 டாலர்
C) 1.30 டாலர்
D) 2.00 டாலர்
166. கடலடி நிலத்தோற்றம் அவற்றின் ஆழத்தின் அடிப்படையில் வரிசைப்படுத்துக ?
- A) கண்டம், ஆழி, உயர்வு, சரிவு திட்டு
B) கண்டம், திட்டு, ஆழி, உயர்வு, சரிவு
C) கண்டம், திட்டு, கடல்அடி, சமவெளி
D) கண்டத்திட்டு, கண்ட சரிவு, கண்டவிளிம்பு, கடல்சமவெளி கடல் மலைகள்
167. பாலாறு ஆற்றின் துணை ஆறு ?
- A) காவேரி
B) செய்யாறு
C) மார்கண்டஆறு
D) வன்னியாறு
168. பியூஜிதா என்ற அளவு குறிப்பிடுவது
- A) வெள்ளத்தின் தீவிரத்தை மதிப்பிட உதவும் அளவு
B) நிலநடுக்கத்தின் தீவிரத்தை மதிப்பிட உதவும் அளவு
C) சுழல் காற்றின் தீவிரத்தை ஒப்பிடுதல் அதனால் ஏற்படும் அழிவையும் மதிப்பிடுதல்
D) புயலின் தீவிரத்தை மதிப்பிட உதவும் அளவு

169. பவழத்தொடர் குறித்த சரியான வாக்கியத்தை தேர்வு செய்க www.Padasalai.Net www.TrbTnpSC.com

- i) உலகிலேயே மிகப்பெரிய பவழத்தொடர் ஒன்று பசிபிக் கடலில் உள்ளது.
- ii) இது ஆஸ்திரேலியாவின் கடற்கரைக்கு அப்பால் உள்ளது.
- iii) இது கடலோர முருகை
- iv) உப்பங்கழியில் நீர்மட்டம் குறையும்போது வெளியில் தெரியும்

- A) i ம் iii சரி
- B) i & ii சரி
- C) iii மட்டும் சரி
- D) i, ii, iii, iv சரி

170. தமிழ்நாட்டில் எங்கு பவளப் பாறைகள் உள்ளது.

- A) கட்ச்வளைகுடா
- B) மன்னார்வகைகுடா
- C) இலட்சத்தீவுகள்
- D) நிக்கோபார் தீவுகள்

171. தமிழ்நாட்டின் மொத்த நிலபரப்பு

- A) 1,30,058 ச.கி.மீ
- B) 1,40,033 ச.கி.மீ
- C) 1,30,955 ச.கி.மீ
- D) 1,28,055 ச.கி.மீ

172. பின்வருவனவற்றுள் அஸ்ஸாம் மாநிலத்தில் இல்லாத புலிகள் காப்பகம்?

- A) பன்ச் (pench)
- B) காசிரங்கா
- C) மானாஸ் (Manas)
- D) நமரி (Nameri)

173. இரவும் பகலும் ஒரே சீரான வெப்பநிலையில் (NIGHT AND DAY TEMPERATURE ALMOST THE SAME) உள்ள கோள்

- A) பூமி (Earth)
- B) வியாழன் (Jupiter)
- C) செவ்வாய் (Mars)
- D) வெள்ளி (Venus)

174. "Global crisis recession and un even recovery" என்ற புத்தகத்தை எழுதியவர்

- A) உப்பேந்திர சிங்
- B) ரகுராம்ராஜன்
- C) Y.V.ரெட்டி
- D) விக்ரம் சேத்

175. WAN என்பதன் விரிவாக்கம்

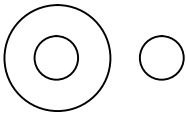
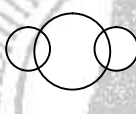

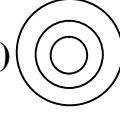
- A) World Area Network
- B) Wireless Application net work
- C) Wide Area Network
- D) Wide Application Net work

176 பொருத்தமான பொருளை தேர்வு செய்து பொருத்துக

- A) 1 Byte – 1. Second Generation language
 B) 1 kb – 2. 8 Bit
 C) Bits – 3. 1024 byte
 D) Algol -60 – 4. 0,1

	a	b	c	d
A)	2	4	1	3
B)	2	3	4	1
C)	3	4	2	1
D)	4	3	1	2

177. ஆக்ரா, தாஜ்மகால், இந்தியா

- A)  B)  C)  D) 

178. 2008 ஆம் ஆண்டு ஜனவரி மாதம் 6 ஆம் தேதி ஞாயிற்றுக்கிழமை எனில் அதே ஆண்டு ஜூன் மாதம் 9 ஆம் தேதி என்னகிழமை

- A) ஞாயிறு B) திங்கள்
 C) செவ்வாய் D) புதன்

179. ஒரு ஊரில் உள்ள 45 வீடுகளில், 25 வீடுகளில் தொலைகாட்சி பெட்டியும் 30 வீடுகளில் வானொலிபெட்டியும், இருந்தால் எத்தனை வீடுகளில் இரண்டும் இருக்கும்

- A) 20 B) 5
 C) 10 D) 15

180. 1. வறுமை 2. மக்கள்தொகை 3. இறப்பு
 4. வேலைவாய்ப்பின்மை 5. நோய்

- A) 34251 B) 24153
 C) 23451 D) 12345

181.

8	5	3	10
7	6	6	7
14	8	9	?

- A) 17 B) 16
 C) 72 D) 13

182. APPEAR \rightarrow PAEPRA எனில் PROVIDENCE \rightarrow
- A) PORIVEDCNE B) RPOVPINECE
C) RPVODINEEC D) EORIVEDCEP
183. A = 2, B= 3, C=4 எனில் 14, 2, 11, 16, 19 குறிப்பது
- A) TEACH B) MAJOR
C) MAJER D) NBKNS
184. $x = 1 + \sqrt{2}$ எனில் $\left(x - \frac{1}{x}\right)^2$ ன் மதிப்பு
- A) 2 B) 3
C) 5 D) 4
185. இரு எண்களின் கூடுதல் 55 அவற்றின் வித்தியாசம் 7 எனில் அந்த எண்கள்
- A) 32, 23 B) 32, 25
C) 30, 25 D) 31, 24
186. ஒரு இரண்டு இலக்க எண்ணின் இலக்கங்களின் கூடுதல் 11 இலக்கங்களை இடமாற்றி அமைக்கும் போது கிடைக்கும் எண் முந்தைய எண்ணைவிட 9 குறைவு எனில் அந்த எண்
- A) 56 B) 65
C) 47 D) 74
187. 5 மீ x 2 மீ x 1 மீ அளவுள்ள ஒரு குழி மணலால் நிரப்பப்படுகிறது ஒரு கன மீட்டருக்கு மணல்நிரப்ப ஆகும் செலவு ரூ 270 எனில் மொத்த செலவு
- A) 1000 ரூ B) 270 ரூ
C) 2700 ரூ D) 5400 ரூ
188. 100 மாணவர்களின் சராசரி மதிப்பெண் 40 பின்பு 53 என்ற மதிப்பெண் 83 என்று தவறுதலாக எடுக்கப்பட்டது. சரியான சராசரி என்ன?
- A) 39 B) 39.5
C) 38.7 D) 39.7
189. 8 ஆல் வகுபடும் அனைத்து மூன்றிலக்க இயல் எண்களின் கூடுதல்
- A) 61376 B) 63176
C) 66137 D) 67316

190. இருவரின் வருமான விகிதம் 9 : 7 அவர்களின் செலவுகளில் விகிதம் 4 : 3 ஒவ்வொருவரும் மாதமொன்றுக்கு ரூ 2000 சேமிக்க முடிந்தால் அவர்களுடைய மாத வருமானம்.
- A) ரூ. 14000, 18000 ரூ B) ரூ. 18000, 14000 ரூ
C) ரூ. 16000, 15000 ரூ D) ரூ. 15000, 16000 ரூ
191. 21 செமீ ஆரமுள்ள ஒரு வட்டத்தில் இருந்து 120° மையக்கோணம் கொண்ட ஒரு வட்டகோண பகுதியை வெட்டியெடுத்து அதன் ஆரங்களை ஒன்றிணைத்து கூம்பாக்கினால் கூம்பின் வளைபரப்பு
- A) 642 செமீ² B) 246 செமீ²
C) 462 செமீ² D) 264 செமீ²
192. ஒருவர் தனது மாத சம்பளத்தில் 10% வீட்டு வாடகைக்கும், மீதியில் 20% குழந்தைகள் கல்விக்கும் மீதியில் 15% உடைக்கும் செலவு செய்தார். எல்லா செலவுகள் போக மீதி ரூ 3060 இருந்தால் அவரின் மாதசம்பளம்
- A) 6000 ரூ B) ரூ 5000
C) 5500 ரூ D) ரூ 4000
193. ஒருவர் ஒரு பொருளை ரூ 1140 க்கு விற்கும்போது 5% நட்டம், அவர் 5% லாபம் பெற விற்ப விலை என்ன?
- A) 1260 ரூ B) 1560 ரூ
C) 1650 ரூ D) 1620 ரூ
194. 21 பொருட்களின் அடக்கவிலை 18 பொருட்களின் விற்பவிலைக்கு சமம் எனில் லாப சதவீதம் % என்ன?
- A) 25% B) 50%
C) $33\frac{1}{3}\%$ D) $16\frac{2}{3}\%$
195. 3, 10, 36, 172, 885, 5346, 37471 என்ற தொடரில் தவறான எண்?
- A) 10 B) 5346
C) 885 D) 36

196. ரூ. 5000 க்கு ஒரு வருடதனிவட்டியில் ரூ. 5700 ஆகிறது. அதே வட்டி வீதத்தில் ரூ. 7000 க்கு 5 ஆண்டுகளில் கிடைக்கும் தொகை

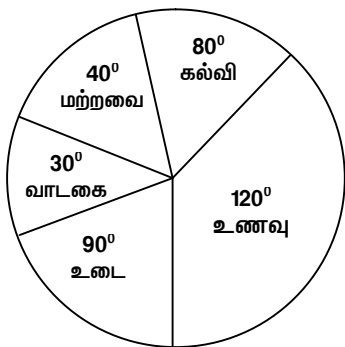
A) ரூ. 11900

B) ரூ. 12000

C) ரூ. 12700

D) ரூ. 10700

197. ஒரு மாதவருமானம் ரூ. 12000 எனில் வட்டி விளக்கப்படத்தின்படி உணவுக்கு செலவிடும் தொகை



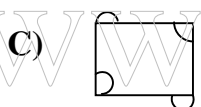
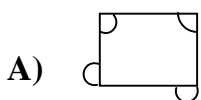
A) ரூ. 3000

B) ரூ. 6000

C) ரூ. 5000

D) ரூ. 4000

198. சரியானதைக்காண்



199. ஒருவர் A என்ற புள்ளியிலிருந்து 3 கிமீ கிழக்குமுகமாக நடந்து B என்ற புள்ளியை அடைந்து இடதுபுறமாக திரும்பி முன்பு நடத்தைப்போல் 3 மடங்கு தூரம் நடந்து C யை அடைந்து மீண்டும் இடதுபுறமாக திரும்பி முன்பு நடத்தைப்போல் 5 மடங்கு தூரம் நடந்து D யை அடைகிறார் எனில் A லிருந்து அவர் இருக்கும் தூரம்.

A) 18 கிமீ

B) 16 கிமீ

C) 12 கிமீ

D) 15 கிமீ

200. ஒரு கடிதாரம் காலை 8 மணி காட்டுகிறது. மதியம் 2 மணி அடைய மணிமுள் எத்தனை பாகை நகர வேண்டும்

A) 150°

B) 144°

C) 168°

D) 180°



MODEL - 3 ANSWER KEY

1.	D	41.	D	81.	D	121.	A	161.	C
2.	B	42.	A	82.	C	122.	B	162.	B
3.	D	43.	A	83.	C	123.	A	163.	C
4.	B	44.	C	84.	B	124.	D	164.	A
5.	D	45.	B	85.	C	125.	A	165.	B
6.	D	46.	A	86.	D	126.	B	166.	D
7.	A	47.	B	87.	A	127.	B	167.	B
8.	B	48.	C	88.	C	128.	C	168.	C
9.	B	49.	A	89.	C	129.	C	169.	B
10.	C	50.	A	90.	A	130.	B	170.	B
11.	A	51.	A	91.	D	131.	D	171.	A
12.	A	52.	C	92.	C	132.	C	172.	A
13.	B	53.	B	93.	A	133.	D	173.	D
14.	D	54.	A	94.	D	134.	B	174.	C
15.	B	55.	A	95.	D	135.	B	175.	C
16.	C	56.	B	96.	A	136.	B	176.	B
17.	D	57.	C	97.	C	137.	B	177.	D
18.	A	58.	D	98.	A	138.	C	178.	B
19.	D	59.	C	99.	D	139.	C	179.	C
20.	B	60.	D	100.	A	140.	D	180.	B
21.	A	61.	D	101.	B	141.	C	181.	D
22.	A	62.	B	102.	D	142.	A	182.	C
23.	A	63.	D	103.	A	143.	A	183.	B
24.	C	64.	D	104.	C	144.	B	184.	D
25.	A	65.	B	105.	A	145.	D	185.	D
26.	B	66.	D	106.	D	146.	D	186.	B
27.	D	67.	B	107.	B	147.	D	187.	C
28.	C	68.	B	108.	C	148.	C	188.	D
29.	D	69.	B	109.	B	149.	C	189.	A
30.	D	70.	D	110.	D	150.	A	190.	B
31.	B	71.	A	111.	B	151.	A	191.	C
32.	B	72.	A	112.	D	152.	B	192.	C
33.	C	73.	C	113.	B	153.	C	193.	A
34.	A	74.	D	114.	C	154.	A	194.	D
35.	A	75.	C	115.	C	155.	A	195.	D
36.	C	76.	B	116.	A	156.	C	196.	A
37.	D	77.	A	117.	A	157.	D	197.	D
38.	D	78.	D	118.	D	158.	A	198.	C
39.	D	79.	C	119.	B	159.	D	199.	D
40.	C	80.	B	120.	D	160.	D	200.	D